



REPÚBLICA DE COLOMBIA
SECRETARÍA DE EDUCACIÓN MUNICIPAL DE
PALMIRA
“INSTITUCIÓN EDUCATIVA “DE ROZO”
Aprobada por Resolución N° 0835 del 20 de FEBRERO
de 2.017

GUÍA DE APRENDIZAJE No. 4


Grado:	SEGUNDO (1,2,3,4,5,6, 7)
Área o asignatura:	CIENCIAS SOCIALES
Fecha de recibido:	21 DE JULIO 2.020
Fecha de entrega:	31 DE JULIO 2.020
Nombre del estudiante:	
Objetivo de aprendizaje y/o DBA:	Identifica las formas del relieve que se encuentran en la superficie terrestre (montaña, valle, llanura, meseta e islas) y nombra aquellas que se observan en su localidad, comuna o vereda.

INTRODUCCIÓN

Esta Guía te va a orientar para trabajar con algunas actividades del libro Retos para Gigantes,

¡Recuerda!

Debes hacer un buen uso de la guía, así que no lo pierdas o lo dañes. ¡El uso adecuado es tú responsabilidad!





¿Qué voy a aprender?



Qué son las formas del relieve

Un niño de la costa Caribe viajó en bus hacia Bogotá. Cuando llegó, llamó a su familia y les describió las características que observó de los diferentes sitios por donde pasó. Dibuja un lugar que esté cerca del mar, y otro, de las montañas.

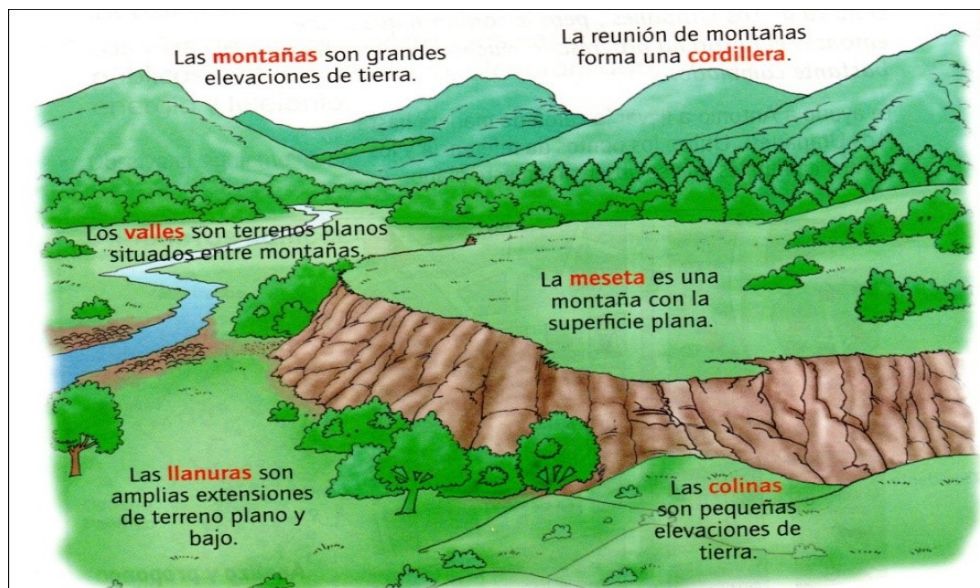


Recuerda

1. ¿Qué sucede si chocas dos trozos de masa plana, plastilina o greda?
 - ◆ Se partirían
 - ◆ Se arrugarían
 - ◆ Se doblarían
2. ¿Qué le ocurre a un montón de arena o tierra cuando sopla un viento fuerte?
 - ◆ Se derrumba
 - ◆ Queda más baja
 - ◆ Cambia de forma

La superficie de la Tierra presenta muchas irregularidades. Por esto, se habla de formas del relieve.

EL RELIEVE



Es un conjunto de elevaciones, depresiones y planicies de la corteza terrestre. En el relieve podemos encontrar: montañas, cordilleras, colinas, mesetas, volcanes, nevados, llanuras, valles.

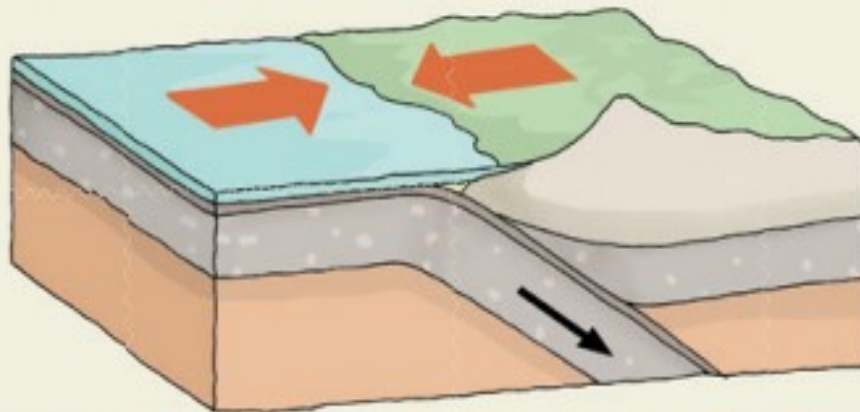


Ahora... continuemos con más conocimientos sobre el tema.

Aplica y resuelve

1. Lee y analiza.

¿Cómo se formó el relieve?



En la superficie de los continentes y de los océanos encontramos formas altas del relieve, como montañas y hundimientos. El origen de estas formaciones es consecuencia de movimientos internos del planeta, lo que causa el **plegamiento**, el **levantamiento** o el **hundimiento** de la corteza terrestre. También existen otros factores externos que intervienen en la superficie de la Tierra, como la erosión.

2. Las partes sólidas que sostienen los continentes y los océanos se llaman placas. Observa la siguiente imagen y describe lo que pasa en los tres movimientos de las placas.
3. Explica qué formas del relieve se originaron por los movimientos que observaste.



Principales accidentes geográficos

Para Cathalina, los mejores programas de televisión son aquellos en los que puede ver montañas, ríos y el mar. Imagina cómo se formaron estos.




1. Describe dos de los siguientes lugares: una costa, una montaña, un río y sus laderas.
2. Escribe las diferencias entre costa y montaña.

Las geoformas

Las depresiones, las llanuras y los demás accidentes geográficos se diferencian por su forma y altura, y se pueden representar en los mapas físicos.



Las formas del relieve son:



- a. **Las montañas:** son elevaciones de tierra superiores a los 700 metros de altura.
- b. **Las cordilleras:** es la unión de varias montañas en cadena.
- c. **Los valles,** las depresiones o los hundimientos separan montañas o cordilleras.
- d. **Las mesetas:** son elevaciones con una superficie plana.
- e. **Las llanuras:** son superficies planas de gran extensión.
- f. **Las depresiones:** son zonas continentales hundidas.
- g. **Los nevados:** son montañas cubiertas de nieve.
- h. **Volcán:** montaña con una abertura por donde salen gases y materiales fundidos.

1. Escribe la letra correspondiente en los círculos de la imagen, según características de cada accidente geográfico.
2. A partir del mapa de la página anterior, identifica cuatro elevaciones del relieve colombiano y dos formaciones planas.

Los mapas físicos nos muestran el relieve de un lugar.



Mi compromiso

Me interesaré más por la observación de los mapas para conocer las características de un lugar.

Valora tu aprendizaje

	Si	No	A veces
Identifico características de las formas del relieve.			
Ubico en el mapa físico de Colombia algunas de sus accidentes geográficos.			
Describo las características del relieve colombiano.			

Los lugares más representativos de mi ciudad o municipio



El parque central es uno de los puntos turísticos más importantes de las ciudades y municipios. Haz un dibujo del parque central de tu ciudad o municipio.

1. Nombra tres lugares importantes de un municipio o ciudad.
2. Describe un lugar donde se hayan divertido o descansado con tu familia.

Lugares que hacen atractivas las ciudades

Una ciudad o municipio tiene generalmente lugares que aportan a sus actividades económicas y culturales.

- ◆ **Lugares turísticos.** Estos sitios son visitados porque ofrecen descanso, contacto con la naturaleza, actividades culturales, belleza arquitectónica de sus sitios históricos, entre otros.
- ◆ **Lugares de interés económico y comercial.** Muchas ciudades son reconocidas por sus actividades económicas que facilitan el intercambio comercial y la inversión de nacionales y extranjeros.



Aplica y resuelve

1. De los siguientes lugares, marca los que tienen aspectos en común y el interés que pueden despertar.



2. Según lo descrito, ¿qué lugares te gustaría conocer? Explica por qué.
3. Recorta de periódicos o revistas, o dibuja lugares que te gustaría visitar de tu ciudad o municipio.

Ayudemos al turista



Los mapas nos ayudan a ubicar diferentes lugares. Piensa en los sitios de tu ciudad que mostrarías a un turista.

Recuerda


1. Explica lo que te gustaría mejorar de tu ciudad o municipio.
2. Escribe en tu cuaderno sobre los lugares cercanos a tu casa que más te gustan.

Cartografía social

Elaborar una imagen del territorio en la que se presente algunos de sus aspectos importantes a otras personas, forma parte de la identidad de una comunidad.


La cartografía social trabaja a partir del concepto que trae cada persona de su territorio, y es útil para generar una reflexión sobre las necesidades y la riqueza que estos territorios poseen.





Aplica y resuelve

1. Piensa en los lugares importantes de tu municipio o ciudad que quisieras recomendar a un turista. Luego, descríbelos.
2. Realiza un dibujo en el que ubiques tu casa y las rutas que tomarías para llegar al lugar que consideres más importante de tu municipio o ciudad. Incluye lo que más te impacte del recorrido.



Estos ejercicios se realizan teniendo en cuenta un tema, un título, un objeto y una motivación.



3. Con ayuda de un adulto, observa un mapa de tu ciudad o municipio, y ubica los lugares que describiste y dibujaste anteriormente. Luego, escribe aspectos positivos y negativos de los lugares del recorrido.



4. Buscar en la siguiente sopa de letras algunos barrios de nuestro Municipio Palmira.

Z	A	M	O	R	A	N	O	T	R	L	U	A	E	M	A	C	A	I
A	T	R	I	U	N	F	O	C	M	O	R	I	R	I	I	N	E	U
O	I	U	A	B	R	M	S	A	S	S	T	O	O	L	M	O	R	D
E	E	D	S	A	R	E	M	L	A	P	D	L	C	I	I	I	I	A
N	I	I	I	B	C	I	E	O	M	A	I	S	Z	A	T	E	E	E
U	R	I	B	E	C	R	B	M	R	M	E	Z	L	V	O	A	P	S
I	A	T	N	T	C	P	T	B	P	M	E	S	T	O	S	R	L	R
O	T	T	N	S	R	A	M	I	O	E	R	U	O	O	E	R	I	E
S	R	Z	T	E	A	E	C	U	A	S	M	I	R	R	I	Ñ	A	O
O	E	D	I	D	S	O	A	T	N	T	A	M	I	T	A	F	O	O
O	C	P	M	E	E	D	L	E	S	I	C	N	O	E	C	R	R	B
A	I	D	E	C	A	S	T	E	B	R	C	I	A	A	Z	A	E	R
E	B	R	T	R	A	E	A	O	L	C	E	I	D	R	A	R	R	A
T	A	O	E	E	U	E	M	R	Z	I	C	C	P	E	L	O	B	I
O	E	R	A	M	A	R	I	I	C	N	E	L	R	A	N	I	O	E
O	F	E	C	M	I	E	R	I	A	I	I	A	S	E	L	E	T	B
O	A	M	E	R	I	C	A	S	E	M	F	L	I	R	O	R	B	I
C	A	C	E	M	E	N	A	O	A	M	N	M	I	M	T	U	S	E

Palabras a buscar:

BENEDICTA CAIMITOS TRIUNFO

BICERTA OBRERO AMERICAS

PALMERAS ALTAMIRA

MUNICIPAL SEMBRADOR URIBE

OLIMPICO FATIMA MIRRIÑAO

CENTRO EMILIA ZAMORANO

RECREO MERCEDES

5. Construye una sopa de letras donde menciones siquiera 12 barrios de tu corregimiento de Rozo.

6. En la maqueta hecha de zona rural y urbana, representa en ella las formas del relieve (llanura, meseta, cordillera, montañas, valle) y coloca sus nombres. Si deseas puedes también hacerla: Ejemplo: ...



7. Realiza los símbolos patrios de Palmira de forma creativa utilizando el material que tengas a la mano.

8. Haz el Mapa del Valle del Cauca, ubicando a Palmira, Rozo y sus cordilleras. (juega un papel importante tu creación).

9. Inventa un cuento escrito que tenga como tema central “formas de relieve”; dramatízalo con tu familia y en un corto video hazle llegar a tu docente tu hermosa creación.

10. En un corto video háblame de lo que entendiste de la guía, lo que se te dificultó y lo que más te agradó.

Lee con mucha atención:

PROYECTO QUE Lindo es mi Valle del Cauca

TEMA: PRIMEROS HABITANTES DEL “VALLE DEL CAUCA”

PRIMEROS HABITANTES DEL “VALLE DEL CAUCA”

Los poblados indígenas en el territorio del Valle se localizaron fundamentalmente a lo largo del Río Cauca y en las faldas de las cordilleras. Los historiadores calculan que, hacia 1559, existían en el territorio alrededor de unos 14.800 indígenas, esparcidos en cerca de 120 caseríos.

La mayoría de estas comunidades pertenecían a la familia lingüística Caribe. Entre éstas se destacaron las tribus de los:

- Chilomas,
- Los Chancos,
- Los Gorriones,
- Los Sindagua,
- Los Jamundíes,
- Los Timbas,
- Los Bugas,
- Los Calotos
- Los Calimas; estos últimos habitaron la zona que actualmente corresponde a los municipios de Restrepo y Darién, y sobresalieron por su producción artesanal (orfebrería y cerámica) y la construcción de terrazas para cultivo.

Finalmente, la zona norte del departamento formó parte del área de influencia de la cultura de los Quimbayas, considerados como los mejores orfebres de América precolombina ; y en la parte oriental, los Pijaos.



TEMA: UBICACIÓN GEOGRÁFICA

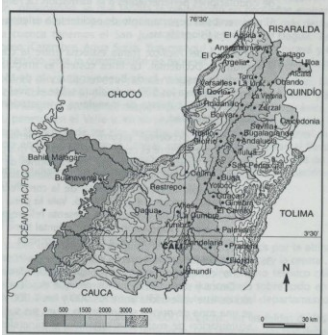
El Departamento del Valle del Cauca está ubicada en el sur occidente del país, entre la cordillera central y el océano pacifico, que baña sus costas al occidente. Su capital es **SANTIAGO DE CALI**.



Exploremos el Valle



Departamento del Valle del Cauca



CANCION MI VALLE DEL CAUCA

Esta es mi tierra bonita mi tierra
preciosa mi Valle del Cauca
(BIS)

Al centro Tulúa, Buga que es miel,
al norte Cartago y Obando
Buenaventura en el mar

Cerca a Palmira: Florida, Amaime, El
Cerrito un pueblo andaluz, Pradera
junto a Candelaria Ginebra, La Paila, El
Dovio y Zarzal Sevilla, Cachimba,
Restrepo Versailles, El Cairo, Guachín
de Ceila Roldañillo, Bugalagrande
Dagua, La Cumbre, Yotoco, El Salao
Por Yumbo se mete uno a Vijes
cerca a la montaña está Toro y La
Unión y cómo olvidar La Victoria,
Darién, Caicedonia, Anserma y
Guacarí

Y entrando al sur por Jamundí: Valle
del Lili dominando el plan ay mi Cali
Esta es mi tierra bonita que embriaga
mis sueños con tantos parajes y al
desprevenido horizonte en cualquier
momento lo vuelve paisaje

Esta es mi tierra bonita jardín que brotó
de la naturaleza riendo entre dos
cordilleras que celosas protegen mi
tierra preciosa Y quedó oliendo a café
quedó sabiendo a guarapo con rico
sabor de caña el Cauca dejó la
montaña
(BIS)

Dando vida a mi tierra bonita
Dando nombre a mi tierra preciosa
Coro
Mi Valle del Cauca
Mi Valle eh!

Que te abre el corazón
Que hoy se convierte en canción
Olvidando tu dolor
Coplasmado su verdor
Junto con los rayos del sol
llamando a todos la atención
Motiva mi inspiración
Esa mujer canela que das
Tal si fuera Santa Ana
Mi mujer vallecaucana

Y quedó oliendo a café
quedó sabiendo a guarapo
con rico sabor de caña
el Cauca dejó la montaña.

MI VALLE DEL CAUCA Y ALGO MAS

- ❖ Cuenta con **42 municipios**
- ❖ Creada el **16 da abril de 1910 por decreto 340.**
- ❖ Su principal puerto **El Puerto de Buenaventura.**
- ❖ Rio mas importante **El rio Cauca.**
- ❖ Cuenta con el **ferrocarril del pacifico** y el **aeropuerto internacional Alfonso Bonilla Aragón.**
- ❖ Su principal cultivo **la caña de azúcar**, por tal motivo contamos con ingenios que permiten **Fuente de trabajo.**
- ❖ Actual gobernador del Valle **Carlos Humberto Useche**

HIMNO AL VALLE DEL CAUCA

HIMNO AL VALLE DEL CAUCA

Salve Valle del Cauca, mi tierra
verdes campos de vida y solaz,
paraíso del sol donde brilla, la
llanura la sierra y el mar.

Bajo el límpido azul de su cielo
riega el Cauca los campos en
flor y el arado fecunda en tu
suelo frutos de oro de bien y de
amor.

Por el bien de mi Valle,
adelante, por la paz, por la fe y
la virtud firme el paso al
compás redoblante, adelante
feliz juventud.

Salve Valle del Cauca, mi tierra
verdes campos de vida y solaz,
paraíso del sol donde brilla, la
llanura la sierra y el mar.

Bajo el límpido azul de su cielo
riega el Cauca los campos en
flor y el arado fecunda en tu
suelo frutos de oro de bien y de
amor.

Por el bien de mi Valle,
adelante, por la paz, por la fe y
la virtud firme el paso al
compás redoblante, adelante
feliz juventud.

HISTORIA MI VALLE DEL CAUCA

Mi Valle del Cauca hace
muchos años fue habitado por
culturas indígenas, siendo la
primera cultura Calima, luego
aparecen otras culturas
llamadas: Gorriones,
Jamundies, Timbas, Calotos,
Quimbayas, manos iguales.

Era de gran importancia por
sus costumbres, se dedicaban
al trabajo del oro, el barro, la
artesanía y cultivo de maíz y
otras plantas practicaban la
pesca.

LLEGADA DE LOS ESPAÑOLES AL VALLE

El más importante español
fue Sebastián de Belalcazar
porque fue el primer
conquistador que entro al
Valle del Cauca y luego
llegaron otros como Jorge
Robledo, Miguel Tascon y
fue el 16 de abril de 1910 que
se fundó nuestro
Departamento Valle del
Cauca.

Por eso hoy cumple 100 años
con su principal ciudad y
capital Santiago de Cali.

“Si necesitas mi colaboración, no dudes en pedirla.”